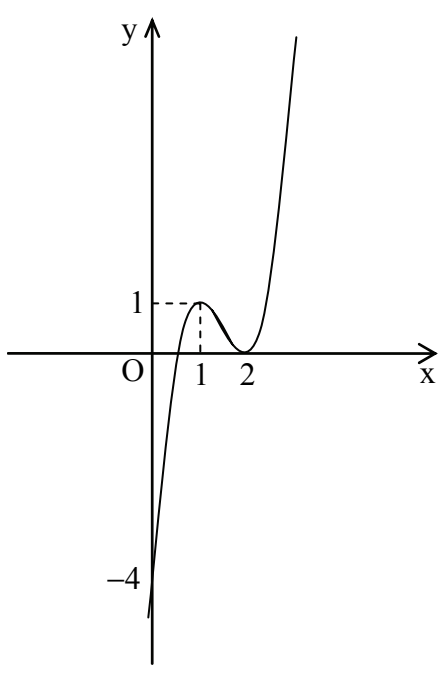
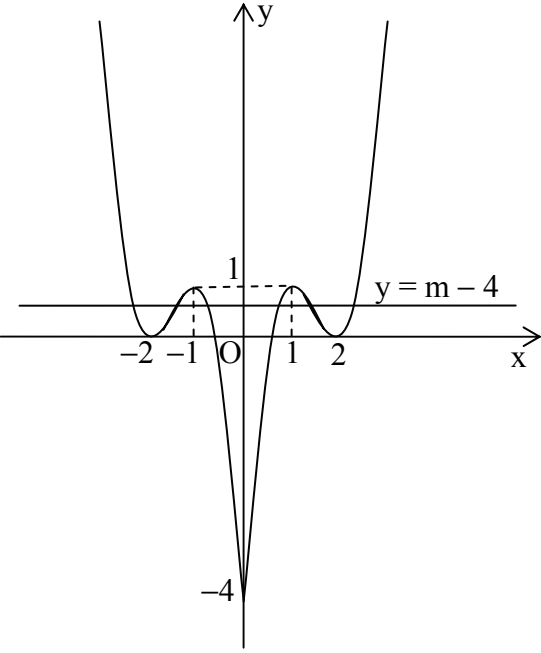
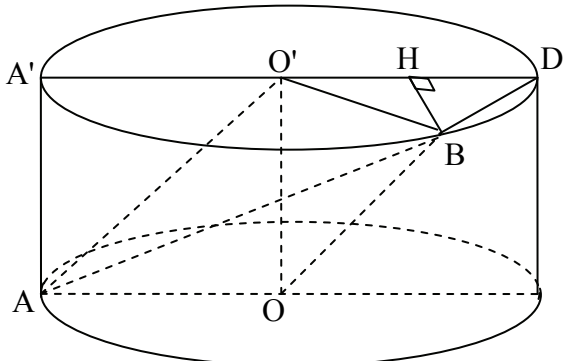


Câu	Ý	Nội dung	Điểm															
I			2,00															
	1	<p>Khảo sát sự biến thiên và vẽ đồ thị của hàm số (1,00 điểm)</p> <p>$y = 2x^3 - 9x^2 + 12x - 4$.</p> <ul style="list-style-type: none"> TXĐ: \mathbb{R}. Sự biến thiên: $y' = 6(x^2 - 3x + 2)$, $y' = 0 \Leftrightarrow x = 1, x = 2$. <p>Bảng biến thiên:</p> <table style="margin-left: auto; margin-right: auto;"> <tr> <td style="border-right: 1px solid black; padding: 5px;">x</td> <td style="padding: 5px;">$-\infty$</td> <td style="padding: 5px;">1</td> <td style="padding: 5px;">2</td> <td style="padding: 5px;">$+\infty$</td> </tr> <tr> <td style="border-right: 1px solid black; padding: 5px;">y'</td> <td style="padding: 5px;">$+$</td> <td style="padding: 5px;">0</td> <td style="padding: 5px;">$-$</td> <td style="padding: 5px;">0</td> </tr> <tr> <td style="border-right: 1px solid black; padding: 5px;">y</td> <td style="padding: 5px;">$-\infty$</td> <td style="padding: 5px;">1</td> <td style="padding: 5px;">0</td> <td style="padding: 5px;">$+\infty$</td> </tr> </table> <p>$y_{CD} = y(1) = 1, y_{CT} = y(2) = 0$.</p> <ul style="list-style-type: none"> Đồ thị: 	x	$-\infty$	1	2	$+\infty$	y'	$+$	0	$-$	0	y	$-\infty$	1	0	$+\infty$	0,25
x	$-\infty$	1	2	$+\infty$														
y'	$+$	0	$-$	0														
y	$-\infty$	1	0	$+\infty$														
			0,50															
			0,25															
	2	<p>Tìm m để phương trình có 6 nghiệm phân biệt (1,00 điểm)</p> <p>Phương trình đã cho tương đương với: $2 x ^3 - 9 x ^2 + 12 x - 4 = m - 4$.</p> <p>Số nghiệm của phương trình đã cho bằng số giao điểm của đồ thị hàm số $y = 2 x ^3 - 9 x ^2 + 12 x - 4$ với đường thẳng $y = m - 4$.</p>	0,25															
		<p>Hàm số $y = 2 x ^3 - 9 x ^2 + 12 x - 4$ là hàm chẵn, nên đồ thị nhận Oy làm trục đối xứng.</p>	0,25															

	<p>Từ đồ thị của hàm số đã cho suy ra đồ thị hàm số:</p> $y = 2 x ^3 - 9x^2 + 12 x - 4$ 	0,25
	<p>Từ đồ thị suy ra phương trình đã cho có 6 nghiệm phân biệt khi và chỉ khi: $0 < m - 4 < 1 \Leftrightarrow 4 < m < 5$.</p>	0,25
II		2,00
1	<p>Giải phương trình lượng giác (1,00 điểm)</p> <p>Điều kiện: $\sin x \neq \frac{\sqrt{2}}{2}$ (1).</p> <p>Phương trình đã cho tương đương với:</p> $2(\sin^6 x + \cos^6 x) - \sin x \cos x = 0 \Leftrightarrow 2\left(1 - \frac{3}{4}\sin^2 2x\right) - \frac{1}{2}\sin 2x = 0$ $\Leftrightarrow 3\sin^2 2x + \sin 2x - 4 = 0$ $\Leftrightarrow \sin 2x = 1$ $\Leftrightarrow x = \frac{\pi}{4} + k\pi \quad (k \in \mathbb{Z}).$	0,50
	<p>Do điều kiện (1) nên: $x = \frac{5\pi}{4} + 2m\pi \quad (m \in \mathbb{Z})$.</p>	0,25
2	<p>Giải hệ phương trình (1,00 điểm)</p> <p>Điều kiện: $x \geq -1, y \geq -1, xy \geq 0$. Đặt $t = \sqrt{xy} \quad (t \geq 0)$. Từ phương trình thứ nhất của hệ suy ra: $x + y = 3 + t$.</p> <p>Bình phương hai vế của phương trình thứ hai ta được:</p> $x + y + 2 + 2\sqrt{xy} + x + y + 1 = 16 \quad (2).$ <p>Thay $xy = t^2, x + y = 3 + t$ vào (2) ta được:</p> $3 + t + 2 + 2\sqrt{t^2 + 3 + t + 1} = 16 \Leftrightarrow 2\sqrt{t^2 + t + 4} = 11 - t$ $\Leftrightarrow \begin{cases} 0 \leq t \leq 11 \\ 4(t^2 + t + 4) = (11 - t)^2 \end{cases} \Leftrightarrow \begin{cases} 0 \leq t \leq 11 \\ 3t^2 + 26t - 105 = 0 \end{cases} \Leftrightarrow t = 3$	0,25
	<p>Với $t = 3$ ta có $x + y = 6, xy = 9$. Suy ra, nghiệm của hệ là $(x; y) = (3; 3)$.</p>	0,25

III		2,00
1	Tính khoảng cách giữa hai đường thẳng A'C và MN (1,00 điểm)	
	Gọi (P) là mặt phẳng chứa A'C và song song với MN. Khi đó: $d(A'C, MN) = d(M, (P)).$	0,25
	Ta có: $C(1;1;0), M\left(\frac{1}{2};0;0\right), N\left(\frac{1}{2};1;0\right)$ $\overline{A'C} = (1;1;-1), \overline{MN} = (0;1;0)$ $[\overline{A'C}, \overline{MN}] = \left(\begin{array}{cc cc cc} 1 & -1 & -1 & 1 & 1 & 1 \\ 1 & 0 & 0 & 0 & 0 & 1 \end{array} \right) = (1;0;1).$	0,25
	Mặt phẳng (P) đi qua điểm A'(0;0;1), có vector pháp tuyến $\vec{n} = (1;0;1)$, có phương trình là: $1.(x-0) + 0.(y-0) + 1.(z-1) = 0 \Leftrightarrow x + z - 1 = 0.$	0,25
	Vậy $d(A'C, MN) = d(M, (P)) = \frac{\left \frac{1}{2} + 0 - 1 \right }{\sqrt{1^2 + 0^2 + 1^2}} = \frac{1}{2\sqrt{2}}.$	0,25
2	Viết phương trình mặt phẳng (1,00 điểm)	
	Gọi mặt phẳng cần tìm là (Q): $ax + by + cz + d = 0$ ($a^2 + b^2 + c^2 > 0$). Vì (Q) đi qua A'(0;0;1) và C(1;1;0) nên: $\begin{cases} c + d = 0 \\ a + b + d = 0 \end{cases} \Leftrightarrow c = -d = a + b.$ Do đó, phương trình của (Q) có dạng: $ax + by + (a + b)z - (a + b) = 0.$	0,25
	Mặt phẳng (Q) có vector pháp tuyến $\vec{n} = (a; b; a + b)$, mặt phẳng Oxy có vector pháp tuyến $\vec{k} = (0; 0; 1)$. Vì góc giữa (Q) và Oxy là α mà $\cos \alpha = \frac{1}{\sqrt{6}}$ nên $ \cos(\vec{n}, \vec{k}) = \frac{1}{\sqrt{6}}$	0,25
	$\Leftrightarrow \frac{ a + b }{\sqrt{a^2 + b^2 + (a + b)^2}} = \frac{1}{\sqrt{6}} \Leftrightarrow 6(a + b)^2 = 2(a^2 + b^2 + ab)$ $\Leftrightarrow a = -2b \text{ hoặc } b = -2a.$	0,25
	Với $a = -2b$, chọn $b = -1$, được mặt phẳng (Q ₁): $2x - y + z - 1 = 0.$ Với $b = -2a$, chọn $a = 1$, được mặt phẳng (Q ₂): $x - 2y - z + 1 = 0.$	0,25
IV		2,00
1	Tính tích phân (1,00 điểm)	
	Ta có: $I = \int_0^{\frac{\pi}{2}} \frac{\sin 2x}{\sqrt{\cos^2 x + 4 \sin^2 x}} dx = \int_0^{\frac{\pi}{2}} \frac{\sin 2x}{\sqrt{1 + 3 \sin^2 x}} dx.$ Đặt $t = 1 + 3 \sin^2 x \Rightarrow dt = 3 \sin 2x dx.$	0,25
	Với $x = 0$ thì $t = 1$, với $x = \frac{\pi}{2}$ thì $t = 4.$	0,25
	Suy ra: $I = \frac{1}{3} \int_1^4 \frac{dt}{\sqrt{t}}$	0,25
	$= \frac{2}{3} \sqrt{t} \Big _1^4 = \frac{2}{3}.$	0,25

	2	Tìm giá trị lớn nhất của A (1,00 điểm)	
		Từ giả thiết suy ra: $\frac{1}{x} + \frac{1}{y} = \frac{1}{x^2} + \frac{1}{y^2} - \frac{1}{xy}$. Đặt $\frac{1}{x} = a, \frac{1}{y} = b$ ta có: $a + b = a^2 + b^2 - ab$ (1) $A = a^3 + b^3 = (a + b)(a^2 + b^2 - ab) = (a + b)^2$.	0,25
		Từ (1) suy ra: $a + b = (a + b)^2 - 3ab$. Vì $ab \leq \left(\frac{a+b}{2}\right)^2$ nên $a + b \geq (a + b)^2 - \frac{3}{4}(a + b)^2$ $\Rightarrow (a + b)^2 - 4(a + b) \leq 0 \Rightarrow 0 \leq a + b \leq 4$ Suy ra: $A = (a + b)^2 \leq 16$.	0,50
		Với $x = y = \frac{1}{2}$ thì $A = 16$. Vậy giá trị lớn nhất của A là 16.	0,25
V.a			2,00
	1	Tìm điểm $M \in d_3$ sao cho $d(M, d_1) = 2d(M, d_2)$ (1,00 điểm)	
		Vì $M \in d_3$ nên $M(2y; y)$.	0,25
		Ta có: $d(M, d_1) = \frac{ 2y + y + 3 }{\sqrt{1^2 + 1^2}} = \frac{ 3y + 3 }{\sqrt{2}}, d(M, d_2) = \frac{ 2y - y - 4 }{\sqrt{1^2 + (-1)^2}} = \frac{ y - 4 }{\sqrt{2}}$.	0,25
		$d(M, d_1) = 2d(M, d_2) \Leftrightarrow \frac{ 3y + 3 }{\sqrt{2}} = 2 \frac{ y - 4 }{\sqrt{2}} \Leftrightarrow y = -11, y = 1$.	0,25
		Với $y = -11$ được điểm $M_1(-22; -11)$.	
		Với $y = 1$ được điểm $M_2(2; 1)$.	0,25
	2	Tìm hệ số của x^{26} trong khai triển nhị thức Niuton (1,00 điểm)	
		• Từ giả thiết suy ra: $C_{2n+1}^0 + C_{2n+1}^1 + \dots + C_{2n+1}^n = 2^{20}$ (1). Vì $C_{2n+1}^k = C_{2n+1}^{2n+1-k}, \forall k, 0 \leq k \leq 2n+1$ nên: $C_{2n+1}^0 + C_{2n+1}^1 + \dots + C_{2n+1}^n = \frac{1}{2}(C_{2n+1}^0 + C_{2n+1}^1 + \dots + C_{2n+1}^{2n+1})$ (2).	0,25
	Từ khai triển nhị thức Niuton của $(1+1)^{2n+1}$ suy ra: $C_{2n+1}^0 + C_{2n+1}^1 + \dots + C_{2n+1}^{2n+1} = (1+1)^{2n+1} = 2^{2n+1}$ (3). Từ (1), (2) và (3) suy ra: $2^{2n} = 2^{20}$ hay $n = 10$.	0,25	
	• Ta có: $\left(\frac{1}{x^4} + x^7\right)^{10} = \sum_{k=0}^{10} C_{10}^k (x^{-4})^{10-k} (x^7)^k = \sum_{k=0}^{10} C_{10}^k x^{11k-40}$.	0,25	
	Hệ số của x^{26} là C_{10}^k với k thỏa mãn: $11k - 40 = 26 \Leftrightarrow k = 6$. Vậy hệ số của x^{26} là: $C_{10}^6 = 210$.	0,25	

V.b		2,00
1	<p>Giải phương trình mũ (1,00 điểm)</p> <p>Phương trình đã cho tương đương với: $3\left(\frac{2}{3}\right)^{3x} + 4\left(\frac{2}{3}\right)^{2x} - \left(\frac{2}{3}\right)^x - 2 = 0$ (1).</p> <p>Đặt $t = \left(\frac{2}{3}\right)^x$ ($t > 0$), phương trình (1) trở thành: $3t^3 + 4t^2 - t - 2 = 0$</p> <p>$\Leftrightarrow (t+1)^2(3t-2) = 0 \Leftrightarrow t = \frac{2}{3}$ (vì $t > 0$).</p> <p>Với $t = \frac{2}{3}$ thì $\left(\frac{2}{3}\right)^x = \frac{2}{3}$ hay $x = 1$.</p>	0,25 0,25 0,25 0,25
2	<p>Tính thể tích của khối tứ diện (1,00 điểm)</p> <p>Kẻ đường sinh AA'. Gọi D là điểm đối xứng với A' qua O' và H là hình chiếu của B trên đường thẳng $A'D$.</p>  <p>Do $BH \perp A'D$ và $BH \perp AA'$ nên $BH \perp (AOO'A')$.</p> <p>Suy ra: $V_{OO'AB} = \frac{1}{3} \cdot BH \cdot S_{AOO'}$.</p> <p>Ta có: $A'B = \sqrt{AB^2 - A'A^2} = \sqrt{3}a \Rightarrow BD = \sqrt{A'D^2 - A'B^2} = a$ $\Rightarrow \Delta BO'D$ đều $\Rightarrow BH = \frac{a\sqrt{3}}{2}$.</p> <p>Vì AOO' là tam giác vuông cân cạnh bên bằng a nên: $S_{AOO'} = \frac{1}{2}a^2$.</p> <p>Vậy thể tích khối tứ diện $OO'AB$ là: $V = \frac{1}{3} \cdot \frac{\sqrt{3}a}{2} \cdot \frac{a^2}{2} = \frac{\sqrt{3}a^3}{12}$.</p>	0,25 0,25 0,25 0,25

Nếu thí sinh làm bài không theo cách nêu trong đáp án mà vẫn đúng thì được đủ điểm từng phần như đáp án quy định.

-----Hết-----